

TÜRKÇE TESTİ

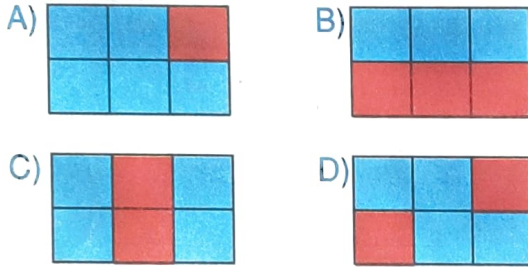
(Bu testte; 15 Türkçe, 15 Matematik, 5 Din Kültürü ve Ahlak Bilgisi, 10 Fen Bilimleri, 10 Sosyal Bilgiler, 10 İngilizce sorusu vardır. Süre 80 dakikadır.)

1.

bembeyaz	sapsarı	mavimsi
yemyeşil	kapkara	mosmor

Yukarıda tabloda pekiştirilmiş sözcüklerin yazılı olduğu kutucuklar maviye, olmayan sözcüklerin yazılı olduğu kutucuklar kırmızıya boyanacaktır.

Şeklin son görünümünü nasıl olur?



2. Öğretmen; "Her tür besinden yeterince tüketmeliyiz." dedi.
- 1 2 3

Yukarıdaki cümlede numaralandırılmış sözcüklerin eş anlamlıları hangi seçenekte doğru olarak verilmiştir?

1	2	3
A) öğrenci	farklı	yiyecek
B) muallim	çeşit	gıda
C) öğretmen	şekil	sebze
D) muallim	çeşit	meyve

3. Aşağıdaki deyimlerden hangisi "Tek başına kalmak, dış dünya ile ilişkisini kesmek, kimse ile görüşmemek" anlamında kullanılır?

- A) Sabrı taşmak
B) Kabuğuna çekilmek
C) Ümidini kesmek
D) Burnunda tütme

4. Aşağıdaki sorulardan hangisi bir metnin hikaye unsurlarını bulmaya yönelik **değildir**?

- A) Hikayedeki olay nerede geçmektedir?
B) Hikayedeki olay ne zaman yaşanmıştır?
C) Hikaye kim tarafından yazılmıştır?
D) Hikayedeki olayı kim yaşamıştır?

5. Aşağıdaki cümlelerin hangisinde sayıların yazılışı ile ilgili bir **yanlışlık** yapılmıştır?

- A) Toplantı 13.50'de başlayacaktı.
B) 13.07.2011'de doğdum.
C) Binanın 3. üncü katında oturuyor.
D) İlkokula 2016'da başladım.

6. Genç yaşlı kadının poşetlerini taşıdı.

Cümlesindeki anlam belirsizliğini gidermek için aşağıdakilerden hangisi yapılmalıdır?

- A) "Genç" yerine "ihtiyar" sözcüğü yazılmalı
 B) "Genç" sözcüğünden sonra "virgül" getirilmeli
 C) "Kadın" yerine "erkek" sözcüğü yazılmalı
 D) Cümlenin başına konuşma çizgisi konulmalı

7. Nerede birlik ora da dirlik.

İnsan yedisinde ne ise yetmişinde de odur.

Baca eğri de olsa dumanı doğru çıkar.

Bal olan yerde sinek de olur.

Hangi renk kartonda yazılı olan cümlede "de" ekinin yazımı ile ilgili bir yanlışlık yapılmıştır?

- A)  B)  C)  D) 

8.



- 1 Bir kağıda yan yana üç tane geri dönüşüm kutusu çiziniz.
- 2 Birinci kutuyu maviye, ikinci kutuyu kırmızıya, üçüncü kutuyu yeşile boyayınız.

- 3 Tüm kutuların orta kısmına geri dönüşüm işareti çiziniz.
- 4 Geri dönüşüm işaretlerini beyaza boyayınız.
- 5 Mavi kutudaki geri dönüşüm işaretinin altına "KAĞIT", kırmızı kutudaki geri dönüşüm işaretinin altına "PLASTİK", yeşil kutudaki geri dönüşüm işaretinin altına da "CAM" yazınız.
- 6 Yazılarınızda siyah renk kalem kullanınız.

Hangi öğrenci öğretmenin yönergelerini doğru uygulamıştır?

- | | 1 | 2 | 3 |
|----|--|---|---|
| A) |  | | |
| B) |  | | |
| C) |  | | |
| D) |  | | |

B

9. Final – Son



Exit – Giriş



Ofis – İşyeri



Star – Yıldız




Link – Bağlantı



Online – Çevrimdışı



Yukarıdaki sözcükler karşısındaki portakallarda yazılı olan sözcüklerle şifrelenmiştir.



Osman, yukarıdaki portakal ağacında, yabancı dillerden alınmış, dilimize henüz yerleşmemiş sözcüklerin Türkçe karşılıklarının doğru yazıldığı portakalları toplayacaktır.

Topladığı portakalları yan yana getirerek bir şifre oluşturacaktır.

Osman'ın oluşturduğu şifre sözcük hangisidir?

A) SERT

B) KURS

C) KURT

D) TERK

10.



Tuğçe yukarıda verilen görselleri kullanarak bir metin hazırlıyor.

Tuğçe'nin hazırladığı metnin konusu aşağıdakilerden hangisi olabilir?

A) Çevre kirliliği

B) Trafik kuralları

C) Mevsimler

D) Ailemiz

11.

Göz Bölümü	Pazartesi ve perşembe günleri dolu.
Kalp Bölümü	Pazartesi, salı, çarşamba günleri randevu verilebilir.
Dahiliye Bölümü	Hafta sonu kapalı.
Ortopedi Bölümü	Çarşamba ve pazar günleri randevu verilebilir.

Randevu alarak 4 bölümden de aynı gün muayene olmak isteyen biri hangi gün hastaneye gitmelidir?

A) Salı

B) Çarşamba

C) Perşembe

D) Cuma

TILKI İLE KEÇİ

Günlerden bir gün, bir tilki kuyuya düşmüş. Ne yapmışsa bir türlü kuyudan çıkamamış. Çok geçmeden susuz kalmış bir keçi aynı kuyunun başına gelmiş.

Keçi, tilkiyi kuyunun içinde görünce:

– Tilki kardeş nasılsın? Bu su temiz mi? İçebilir miyiz? diye sormuş.

Tilki dost canlısı davranarak:

– Su çok güzel! Aşağı inersen içebilirsin! demiş.

Keçi, fazla düşünmeden kuyuya inmiş. Kana kana su içmiş.

Sıra çıkmaya gelince, tilki:

– Ön ayaklarını duvara daya, sırtına basarak çıkayım.

Sonra da seni kurtarırım, demiş.

Keçi kabul etmiş, tilki kurtulmuş. Oradan uzaklaşırken keçiye seslenmiş:

– Eğer azcık aklın olsaydı düşünmeden kuyuya atlamazdın. Şimdi düşünecek bol bol zamanın var. Eminim bir yolunu bulup çıkarsın.



(12, 13 ve 14. soruları metne göre cevaplayınız.)

12. Metnin ana fikri aşağıdakilerden hangisidir?

- A) Akıllı insanlar sonunu düşünmeden hiçbir işe kalkışmaz.
- B) Elimizdekilerle yetinmeyi bilmeliyiz.
- C) Hayvanlara zarar vermemeliyiz.
- D) Korkularımızı yenmeliyiz.

13. Keçi, kuyunun başına niçin gelmiş?

- A) Tilkiyi kuyudan çıkarmak için
- B) Uyumak için
- C) Su içmek için
- D) Saklanmak için

14. Tilki nereye düşmüş?

- A) Kuyuya
- B) Denize
- C) Çukura
- D) Nehire

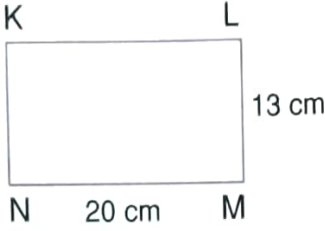
15. “Boş” sözcüğü aşağıdaki cümlelerin hangisinde mecaz anlamda kullanılmıştır?

- A) Cüzdanın içi boştu.
- B) Valizlerini boş olan odaya koyduk.
- C) Boş bardağı yıkamadan çıkmış.
- D) Boş konuşarak herkesin canını sıkıyordu.

TÜRKÇE TESTİ BİTTİ.
MATEMATİK TESTİNE GEÇİNİZ.

MATEMATİK TESTİ

1.



Yukarıda uzun ve kısa kenarı verilen verilen KLMN dikdörtgeninin çevre uzunluğu kaç cm'dir?

- A) 33 B) 66 C) 132 D) 264

2.

	$\begin{array}{r} 4765 \\ - 2673 \\ \hline \end{array}$		$\begin{array}{r} 4765 \\ - 2673 \\ \hline \end{array}$
Semih	Tahmini sonuç	Aylin	Gerçek sonuç

Semih yukarıdaki işlemin tahmini sonucunu bulmak için sayıları en yakın onluklarına yuvarlayarak yapıyor. Aylin ise aynı işlemin gerçek sonucunu buluyor.

Buna göre aşağıdaki ifadelerden hangisi **yanlıştır**?

- A) Semih işlemin sonucunu 2100 bulmuştur.
 B) Aylin'in bulduğu sonuç 2092'dir.
 C) Semih ve Aylin'in buldukları sayıların toplamı 5192'dir.
 D) Semih'in bulduğu sayı Aylin'in bulduğu sayıdan 8 fazladır.

3.



$$\Ç = 64 \text{ cm}$$

Çevresinin uzunluğu 64 cm olan karenin bir kenar uzunluğu kaç cm'dir?

- A) 14 cm B) 15 cm
 C) 16 cm D) 17 cm

4. $(4 \times \star) \times 5 = 7 \times (5 \times \square)$

Yukarıda verilen eşitliğe göre

$\star + \square$ işleminin sonucu kaçtır?

- A) 10 B) 11 C) 12 D) 13

5. Esin kardeşinden 12 cm uzun, ablasından 8 cm kısadır. Ablası ise kardeşinden 20 cm uzundur.



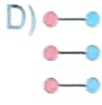
Esin'in boyu 154 cm olduğuna göre aşağıdaki bilgilerden hangisi **yanlıştır**?

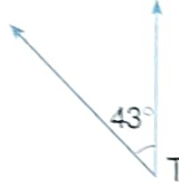
- A) Esin'in kardeşinin boyu 142 cm'dir.
 B) Esin'in ablasının boyu 162 cm'dir.
 C) Esin ve ablasının boylarının toplam uzunluğu 3 metre 4 cm'dir.
 D) Üç kardeşin boy uzunlukları toplamı 458 cm'dir.

6.

5 m	•	•	5000 cm
50 m	•	•	5000 mm
50 mm	•	•	5 cm



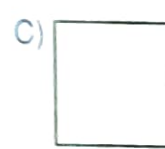

Yukarıdaki uzunluk ölçüleri eşit olanlar ile eşleştirildiğinde hangi görünüm oluşur?

- A)  B)  C)  D) 

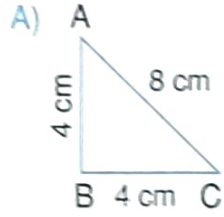
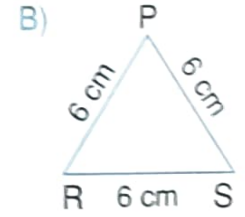
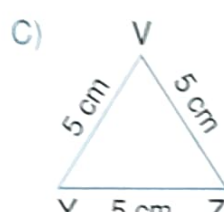
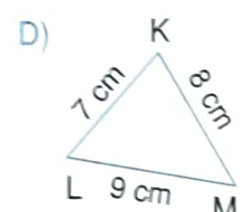
7.  Yandaki T açısının dik açı olabilmesi için açının kaç derece artırılması gerekir?

- A) 47 B) 48 C) 137 D) 317

8. Aşağıdaki geometrik şekillerden hangisinin simetri doğrusu daha fazladır?

- A)  B) 
 C)  D) 

9. Kenar uzunlukları verilen üçgenlerden hangisinin çeşidi yanlış yazılmıştır?

- A)  İkizkenar üçgen
 B)  Çeşitkenar üçgen
 C)  Eşkenar üçgen
 D)  Çeşitkenar üçgen

10. $\frac{8}{9} > \frac{\square}{9}$ olduğuna göre " \square " yerine yazılabilecek rakamların toplamı kaçtır?

- A) 25 B) 26 C) 27 D) 28

11. Aşağıdaki örüntülerden hangisinin kuralı diğerlerinden farklıdır?

- A) 7 - 10 - 9 - 12 - 11 - 14 - 13
 B) 5 - 8 - 6 - 9 - 7 - 10 - 8
 C) 6 - 9 - 8 - 11 - 10 - 13 - 12
 D) 10 - 13 - 12 - 15 - 14 - 17 - 16

DİN KÜLTÜRÜ VE AHLAK BİLGİSİ TESTİ

1. Aşağıdakilerden hangisi Hz. Muhammed'in (s.a.v.) erdemli davranışları arasında yer almaz?

- A) Üstün ahlaka sahip olması
- B) Sevgi ve saygıya önem vermesi
- C) İnsanlar arasında ayırım yapması
- D) Her zaman doğruyu söylemesi

2. "Ey iman edenler! Namaz kılmaya kalkacağınız zaman yüzlerinizi, dirseklerinize kadar ellerinizi yıkayın; başlarınızı meshedin, ayaklarınızı da topuk kemiklerine kadar yıkayın."

Maide Suresi, 6. ayet

Dinimiz yukarıdaki ayette hangi konunun öneminden söz etmiştir?

- A) İyilik
- B) Temizlik
- C) Dürüstlük
- D) Cömertlik

3. Aşağıdakilerden hangisi peygamberimiz Hz. Muhammed (s.a.v.) çocuklarından biri değildir?

- A) Kasım
- B) Fatıma
- C) Yağız
- D) İbrahim

4. • Namazların son oturuş bölümlerinde okunur.
• Peygamberimize (s.a.v.) salavat getirmek için okunur.
• Peygamberimizin (s.a.v.) aile fertlerine dua edilmiş olur.

Yukarıda sözü edilen dua veya dualar hangisidir?

- A) Fatıha
- B) Sübhaneye
- C) Salli ve Barik
- D) Amentü

5. Hz. Muhammed'e (s.a.v) vahiy getiren melek aşağıdakilerden hangisidir?

- A) Cebrail
- B) Mikail
- C) İsrail
- D) Azrail

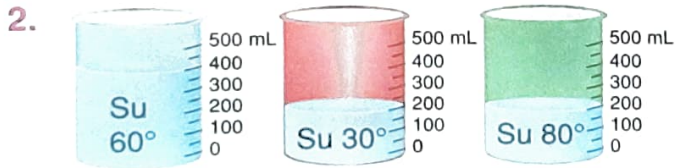
**DİN KÜLTÜRÜ VE AHLAK BİLGİSİ TESTİ BİTTİ.
FEN BİLİMLERİ TESTİNE GEÇİNİZ.**

FEN BİLİMLERİ TESTİ

1. Varlıkları meydana getiren madde miktarına kütle denir.
- Maddelerin kütlelerini ölçmek için eşit kollu terazi kullanılır.
- Kütle ölçücü birimi litredir.
- Kütle maddelerin ölçülebilir özelliğidir.

Yukarıdaki ifadeler doğru ise "D", yanlış ise "Y" şeklinde değerlendirildiğinde hangi seçenek doğru olur?

- A) D Y D Y D Y D Y
- B) D Y D Y D Y D Y
- C) Y D Y D Y D Y D
- D) D Y D Y D Y D Y



Mavi beherglastaki suyun yarısı kırmızı beherglasına, diğer yarısı ise yeşil beherglasına boşaltılıyor.


Buna göre aşağıdaki durumlardan hangisi söylenemez?

- A) Kırmızı beherglastaki suyun sıcaklığı artar.
- B) Yeşil beherglastaki suyun sıcaklığı azalır.
- C) Yeşil beherglastaki son sıcaklık 60°C olur.
- D) Kırmızı beherglastaki son sıcaklık 45°C olur.

3. Aşağıda verilen görsellerin hangisinde mıknatıs kullanılmamıştır?



Bilgisayar



Buzdolabı



Maglev



Makas

4. I. Gök cisimlerinin gözlenmesi zorlaşır.
II. Deniz kaplumbağaları denize ulaşamaz ve ölür.
III. Göçmen kuşlar gidecekleri yönü karıştırır.
IV. Fabrika ve iş yerlerinde geceleri de üretim yapılır.

Yukarıdaki ifadelerden hangileri ışık kirliliğinin olumsuz etkilerindedir?

A) I – II – III

B) I – III – IV

C) III – IV

D) I – II – III – IV

5. Aşağıdakilerden hangisi ses kirliliğine karşı alınacak tedbirlerden biri değildir?

- A) Binaların yapımında ses geçirmez malzemeler kullanılmalıdır.
- B) Yol kenarları ağaçlandırılmalıdır.
- C) Sanayi kuruluşları şehir merkezine yapılmalıdır.
- D) Trafikte gereksiz yere korna çalınmamalıdır.

6. Aşağıdakilerden hangisi ses kirliliğinin olumsuz etkilerinden biri **değildir**?

- A) Dikkat dağınıklığı
B) Uyku bozukluğu
C) Diş ağrısı
D) Baş ağrısı

7.



Belirli bir şekli yoktur.



Buldukları kabı doldururlar.



Buldukları ortama yayılırlar.



Sıkıştırılabilirler.

Yukarıdaki öğrencilerin özelliklerini belirttiği madde hangisidir?

- A) Gaz
B) Süt
C) Tuz
D) Su

8. Aydınlatma araçlarının kronolojik sıralaması hangi seçenekte doğru verilmiştir?

- A) Meşale – Mum – Yağ lambası – Gaz lambası – Ampul
B) Yağ lambası – Meşale – Mum – Gaz lambası – Ampul
C) Mum – Meşale – Gaz lambası – Yağ lambası – Ampul
D) Meşale – Yağ lambası – Mum – Gaz lambası – Ampul

9. Kaynakları yerine göre, ihtiyacımız kadar kullanmaya denir.
Kaynakları bilinçli tüketen kişilere denir.
Kaynakları çok ve boşuna harcayan kişilere denir.

Yukarıda tanımı verilen kavramlar arasında hangisi **yoktur**?

- A) Tutumluluk
B) Savurgan
C) Bilinçli tüketici
D) Bütçe

10.

Özellik / Madde	Suda yüzer.	Suda batar.	Suyu çeker.	Suyu çekmez.	Mıknatıs tarafından çekilir.
★	✓			✓	
◆		✓		✓	✓
●			✓		

Tabloda verilen özelliklere göre şekillerle belirtilen yerlere hangi maddeler yazılmalıdır?

- ★ ◆ ●
- A) Pet bardak Çivi Peçete
B) Madeni para Kumaş Poşet
C) Taş Anahtar Cam bilye
D) Tahta Ataş Şemsiye

FEN BİLİMLERİ TESTİ BİTTİ.
SOSYAL BİLGİLER TESTİNE GEÇİNİZ.

SOSYAL BİLGİLER TESTİ

1. Halkın kendi kendini yönettiği egemenliğin kayıtsız şartsız millete ait olduğu yönetim biçimi hangisidir?

- A) Padişahlık B) Cumhuriyet
C) Krallık D) Sultanlık

2. Hava tahminleri ülkemizde hangi kurum tarafından yapılmaktadır?

- A) Meteoroloji Genel Müdürlüğü
B) Milli Eğitim Bakanlığı
C) İç İşleri Bakanlığı
D) Nüfus ve Vatandaşlık İşleri Genel Müdürlüğü

3. Sibel: Taş kömürü yataklarının olduğu ilimizde yaşıyorum.

Taner: Fındık tarımının en yaygın olduğu yerlerden birinde yaşıyorum.

Melis: Yaşadığım yerin ekonomik faaliyetlerinden biri turizmdir. Ayrıca seracılık da yaygındır.

Yaşadıkları yerlerdeki ekonomik faaliyetlerden söz eden öğrenciler hangi illerde yaşamaktadır?

	Sibel	Taner	Melis
A)	Rize	Samsun	İzmir
B)	Zonguldak	Ordu	Antalya
C)	İstanbul	Ankara	Mardin
D)	Ağrı	Balıkesir	Tokat



Yukarıda verilen krokiye göre hangisi söylenemez?

- A) Eczane, hastanenin doğusundadır.
B) Banka, kültür merkezinin batısındadır.
C) Kırtasiye, marketin kuzeyindedir.
D) Park, okulun kuzeybatı yönündedir.

5. İşten çıkan Selman bey önce Güneş'in battığı yöne doğru daha sonra ise sağ kolunun gösterdiği yöne doğru yürüyerek eve gidiyor.



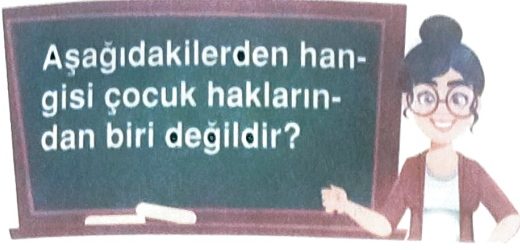
Buna göre Selman Bey eve giderken sırasıyla hangi yönlere doğru gitmiştir?





- A) Önce batı sonra kuzey
B) Önce batı sonra güney
C) Önce doğu sonra güney
D) Önce batı sonra doğu

6. **Bilinçli bir tüketici gıda ürünleri alırken hangisini dikkate almamalıdır?**

- A) Son kullanma tarihi
B) Ambalajın renkli olması
C) Üretim tarihi
D) TSE damgası

7.



- A)  Bir işte çalışma hakkı.
- B)  Eğitim alma hakkı.
- C)  Oyun oynama hakkı.
- D)  Dengeli ve düzenli beslenme hakkı.

8. Aşağıdakilerden hangisi bir çocuğun aile içindeki sorumluluklarından biri **değildir**?


- A) Ailede alınan kararlara uymak
 B) Odasını toplamak
 C) Evin faturalarını ödemek
 D) Kirlenen kıyafetini çamaşır sepetine atmak

9. I. Sorumluluk üstlenmeyi öğrenir.
 II. Kendine güven duygusu gelişir.
 III. Bencillik ve kıskançlık ön plana çıkar.
 IV. İşbirliği yapmayı öğrenir.


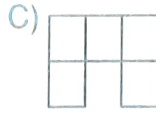
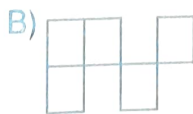

Öğrenciler eğitsel ve sosyal etkinliklere katılırken yukarıdaki davranışlardan hangisi ya da hangilerini kazanmış olur?

- A) Yalnız I
 B) I ve II
 C) I, II ve IV
 D) I, II, III ve IV

10.



Yukarıdaki tablodan milli kültürümüzü yansıtmayan bölümler çıkarıldığında tablonun görünümü nasıl olur?



SOSYAL BİLGİLER TESTİ BİTTİ. İNGİLİZCE TESTİNE GEÇİNİZ.

İNGİLİZCE TESTİ

1.

Can I borrow
your - - - - ?

Here you
are.



Diyalogdaki boşluğa yazılabilecek en uygun ifade hangi seçenekte verilmiştir?

- A) sunglasses B) boots
C) shoes D) umbrella

2.



He is a fireman.

He works at a

Yukarıdaki boşluğa ne yazılmalıdır?

- A) bus station B) fire station
C) police station D) train station

3.



Where is Antalya in the Türkiye?

- A) It is in the west
B) It is in the north
C) It is in the south
D) It is in the east

4.

1. BRITAIN

a. TURKISH

2. THE USA

b. GERMAN

3. TÜRKİYE

c. AMERICAN

4. GERMANY

d. BRITISH

Yukarıda verilen ülkeler ve milletleri eşleştirmesi hangi seçenekte doğru eşleştirilmiştir?

- A) 1 → d B) 1 → c C) 1 → a D) 1 → b
2 → c 2 → d 2 → b 2 → a
3 → a 3 → a 3 → c 3 → c
4 → b 4 → b 4 → d 4 → d

5.

F	R	I	D	A	Y	P	U	T
W	E	D	N	E	S	D	A	Y
T	U	E	S	D	A	Y	I	T
S	A	T	U	R	D	A	Y	I
T	H	U	R	S	D	A	Y	N
S	U	N	D	A	Y	T	H	E
C	U	P	M	O	N	D	A	Y

SECRET COD:

-----?

Yukarıdaki tabloda haftanın günleri işaretlendikten sonra geriye kalan harflerle oluşturulan gizli şifre hangisidir?

- A) Put it in the cup
- B) Cut the paper
- C) Do an experiment
- D) Cut the paper

6.

This is Jane's bike. It is ---- bike.



Yukarıdaki diyalogda boş bırakılan yere ne yazılmalıdır?

- A) his
- B) her
- C) your
- D) my


7.



Görselede yaşanan mevsim hangisidir?

- A) winter
- B) spring
- C) fall
- D) summer

8.



Yukarıdaki diyalogda boş bırakılan yere hangi seçenekteki ifadeyi yazamazız?

- A) Here you are.
- B) Sure.
- C) Of course.
- D) Be quiet, please.

B




A. What's the weather like in Hatay?

B.

Yukarıdaki resimde boş bırakılan yere yazılması gereken en uygun ifade hangi seçenekte verilmiştir?

- A) It's snowy and cold
- B) It's sunny and hot
- C) It's warmy and rainy
- D) It's stormy and windy

10.



Ali'nin tarifine göre hangi seçenekteki görsel babasına ait olabilir?

